

Blitzrechnen A



Name _____

Datum _____



$0 + \underline{\quad} = 90$

$100 - 10 = \underline{\quad}$

$19 + \underline{\quad} = 100$

$16 + \underline{\quad} = 26$

$0 + \underline{\quad} = 70$

$\underline{\quad} - 90 = 10$

$20 + \underline{\quad} = 100$

$59 + \underline{\quad} = 89$

$0 + 60 = \underline{\quad}$

$90 - \underline{\quad} = 80$

$97 + \underline{\quad} = 100$

$13 + \underline{\quad} = 23$

$0 + \underline{\quad} = 80$

$100 - 80 = \underline{\quad}$

$4 + \underline{\quad} = 100$

$3 + \underline{\quad} = 53$

$\underline{\quad} + 30 = 80$

$\underline{\quad} - 50 = 20$

$25 + \underline{\quad} = 100$

$28 + \underline{\quad} = 78$

$\underline{\quad} + 50 = 60$

$80 - \underline{\quad} = 70$

$29 + \underline{\quad} = 100$

$17 + \underline{\quad} = 87$

$\underline{\quad} + 60 = 70$

$\underline{\quad} - 10 = 40$

$30 + \underline{\quad} = 100$

$45 + \underline{\quad} = 65$

$\underline{\quad} + 10 = 20$

$\underline{\quad} - 30 = 50$

$46 + \underline{\quad} = 100$

$24 + \underline{\quad} = 84$

$\underline{\quad} + 70 = 80$

$\underline{\quad} - 40 = 30$

$98 + \underline{\quad} = 100$

$9 + \underline{\quad} = 89$

$\underline{\quad} + 50 = 70$

$\underline{\quad} - 60 = 40$

$78 + \underline{\quad} = 100$

$8 + \underline{\quad} = 98$

Du hast _____ von 40 Punkten erreicht.

Blitzrechnen B



Name _____

Datum _____



$\underline{\quad} + 60 = 60$

$80 - 50 = \underline{\quad}$

$81 + \underline{\quad} = 100$

$26 + \underline{\quad} = 46$

$\underline{\quad} + 80 = 90$

$90 - \underline{\quad} = 30$

$69 + \underline{\quad} = 100$

$8 + \underline{\quad} = 28$

$0 + \underline{\quad} = 70$

$100 - 90 = \underline{\quad}$

$91 + \underline{\quad} = 100$

$29 + \underline{\quad} = 69$

$10 + \underline{\quad} = 30$

$\underline{\quad} - 80 = 10$

$15 + \underline{\quad} = 100$

$24 + \underline{\quad} = 74$

$40 + 20 = \underline{\quad}$

$50 - 30 = \underline{\quad}$

$63 + \underline{\quad} = 100$

$0 + \underline{\quad} = 70$

$30 + 30 = \underline{\quad}$

$80 - \underline{\quad} = 10$

$90 + \underline{\quad} = 100$

$69 + \underline{\quad} = 79$

$\underline{\quad} + 60 = 80$

$\underline{\quad} - 50 = 40$

$71 + \underline{\quad} = 100$

$25 + \underline{\quad} = 75$

$10 + 60 = \underline{\quad}$

$80 - 20 = \underline{\quad}$

$20 + \underline{\quad} = 100$

$2 + \underline{\quad} = 52$

$70 + \underline{\quad} = 90$

$70 - 20 = \underline{\quad}$

$88 + \underline{\quad} = 100$

$17 + \underline{\quad} = 87$

$0 + \underline{\quad} = 90$

$70 - \underline{\quad} = 40$

$12 + \underline{\quad} = 100$

$50 + \underline{\quad} = 80$

Du hast _____ von 40 Punkten erreicht.

Material erstellt von Frau Pippas (Anna de Bruin) <https://pippasunddiefuchsklasse.jimdofree.com/> mit dem Worksheet Crafter

Schriften: WsC Grundschrift

Grafiken: Kate Hadfield

Hinweis:



Du darfst das vorliegende Material für deinen Unterricht verwenden.



Du darfst es nicht über soziale Netzwerke verbreiten (Dropbox, Facebook usw.).

Das Material darf ausschließlich für schulische und nicht kommerzielle Zwecke genutzt werden. Die Quellenangaben im Material dürfen nicht entfernt werden.

Gerne darfst du Bilder von dem Material auf den sozialen Medien teilen. Ich würde mich über eine Verlinkung freuen.

Solltest du auf eine Urheberrechtsverletzung aufmerksam werden, melde dies bitte unter folgender E-Mail Adresse: anna-debruin@web.de

Blitzrechnen A 	Name	Datum 	
$0 + \underline{90} = 90$	$100 - 10 = \underline{90}$	$19 + \underline{81} = 100$	$16 + \underline{10} = 26$
$0 + \underline{70} = 70$	$\underline{100} - 90 = 10$	$20 + \underline{80} = 100$	$59 + \underline{30} = 89$
$0 + 60 = \underline{60}$	$90 - \underline{10} = 80$	$97 + \underline{3} = 100$	$13 + \underline{10} = 23$
$0 + \underline{80} = 80$	$100 - 80 = \underline{20}$	$4 + \underline{96} = 100$	$3 + \underline{50} = 53$
$\underline{50} + 30 = 80$	$\underline{70} - 50 = 20$	$25 + \underline{75} = 100$	$28 + \underline{50} = 78$
$\underline{10} + 50 = 60$	$80 - \underline{10} = 70$	$29 + \underline{71} = 100$	$17 + \underline{70} = 87$
$\underline{10} + 60 = 70$	$\underline{50} - 10 = 40$	$30 + \underline{70} = 100$	$45 + \underline{20} = 65$
$\underline{10} + 10 = 20$	$\underline{80} - 30 = 50$	$46 + \underline{54} = 100$	$24 + \underline{60} = 84$
$\underline{10} + 70 = 80$	$\underline{70} - 40 = 30$	$98 + \underline{2} = 100$	$9 + \underline{80} = 89$
$\underline{20} + 50 = 70$	$\underline{100} - 60 = 40$	$78 + \underline{22} = 100$	$8 + \underline{90} = 98$
Du hast _____ von 40 Punkten erreicht.			

Blitzrechnen B 	Name	Datum 	
$\underline{0} + 60 = 60$	$80 - 50 = \underline{30}$	$81 + \underline{19} = 100$	$26 + \underline{20} = 46$
$\underline{10} + 80 = 90$	$90 - \underline{60} = 30$	$69 + \underline{31} = 100$	$8 + \underline{20} = 28$
$0 + \underline{70} = 70$	$100 - 90 = \underline{10}$	$91 + \underline{9} = 100$	$29 + \underline{40} = 69$
$10 + \underline{20} = 30$	$\underline{90} - 80 = 10$	$15 + \underline{85} = 100$	$24 + \underline{50} = 74$
$40 + 20 = \underline{60}$	$50 - 30 = \underline{20}$	$63 + \underline{37} = 100$	$0 + \underline{70} = 70$
$30 + 30 = \underline{60}$	$80 - \underline{70} = 10$	$90 + \underline{10} = 100$	$69 + \underline{10} = 79$
$\underline{20} + 60 = 80$	$\underline{90} - 50 = 40$	$71 + \underline{29} = 100$	$25 + \underline{50} = 75$
$10 + 60 = \underline{70}$	$80 - 20 = \underline{60}$	$20 + \underline{80} = 100$	$2 + \underline{50} = 52$
$70 + \underline{20} = 90$	$70 - 20 = \underline{50}$	$88 + \underline{12} = 100$	$17 + \underline{70} = 87$
$0 + \underline{90} = 90$	$70 - \underline{30} = 40$	$12 + \underline{88} = 100$	$50 + \underline{30} = 80$
Du hast _____ von 40 Punkten erreicht.			

Material erstellt von Frau Pippas (Anna de Bruin) <https://pippisunddiefuchsklasse.jimdofree.com/> mit dem Worksheet Crafter

Schriften: WsC Grundschrift

Grafiken: Kate Hadfield

Hinweis:

Du darfst das vorliegende Material für deinen Unterricht verwenden.

Du darfst es nicht über soziale Netzwerke verbreiten (Dropbox, Facebook usw.).

Das Material darf ausschließlich für schulische und nicht kommerzielle Zwecke genutzt werden. Die Quellenangaben im Material dürfen nicht entfernt werden.

Gerne darfst du Bilder von dem Material auf den sozialen Medien teilen. Ich würde mich über eine Verlinkung freuen.

Solltest du auf eine Urheberrechtsverletzung aufmerksam werden, melde dies bitte unter folgender E-Mail Adresse: anna-debruin@web.de