

# Die Kernaufgaben des Einmaleins

Kernaufgaben sind einfache Malaufgaben.

Sie helfen dir später dabei schwierige Malaufgaben zu lösen.

Alle Aufgaben mit 1, 2, 5 und 10 sind Kernaufgaben.

Ich habe dir hier die Kernaufgaben nach den verschiedenen Malreihen sortiert.

Löse die Aufgaben. Nutze den Malwinkel, wenn du Hilfe brauchst.

## 1er Reihe

$1 \cdot 1 = \underline{\quad}$

$2 \cdot 1 = \underline{\quad}$

$5 \cdot 1 = \underline{\quad}$

$10 \cdot 1 = \underline{\quad}$



## 2er Reihe

$1 \cdot 2 = \underline{\quad}$

$2 \cdot 2 = \underline{\quad}$

$5 \cdot 2 = \underline{\quad}$

$10 \cdot 2 = \underline{\quad}$




## 3er Reihe

$1 \cdot 3 = \underline{\quad}$

$2 \cdot 3 = \underline{\quad}$

$5 \cdot 3 = \underline{\quad}$

$10 \cdot 3 = \underline{\quad}$



## 4er Reihe

$1 \cdot 4 = \underline{\quad}$

$2 \cdot 4 = \underline{\quad}$

$5 \cdot 4 = \underline{\quad}$

$10 \cdot 4 = \underline{\quad}$



## 5er Reihe

$1 \cdot 5 = \underline{\quad}$

$2 \cdot 5 = \underline{\quad}$

$5 \cdot 5 = \underline{\quad}$

$10 \cdot 5 = \underline{\quad}$



## 6er Reihe

$1 \cdot 6 = \underline{\quad}$

$2 \cdot 6 = \underline{\quad}$

$5 \cdot 6 = \underline{\quad}$

$10 \cdot 6 = \underline{\quad}$



## 7er Reihe

$1 \cdot 7 = \underline{\quad}$

$2 \cdot 7 = \underline{\quad}$

$5 \cdot 7 = \underline{\quad}$

$10 \cdot 7 = \underline{\quad}$




## 8er Reihe

$1 \cdot 8 = \underline{\quad}$

$2 \cdot 8 = \underline{\quad}$

$5 \cdot 8 = \underline{\quad}$

$10 \cdot 8 = \underline{\quad}$




## 9er Reihe

$1 \cdot 9 = \underline{\quad}$

$2 \cdot 9 = \underline{\quad}$

$5 \cdot 9 = \underline{\quad}$

$10 \cdot 9 = \underline{\quad}$



## 10er Reihe

$1 \cdot 10 = \underline{\quad}$

$2 \cdot 10 = \underline{\quad}$

$5 \cdot 10 = \underline{\quad}$

$10 \cdot 10 = \underline{\quad}$

